

Tarjetas del juego

¿Quién tiene un triángulo isósceles y rectángulo?

¿Quién tiene un polígono de 6 lados?

¿Quién tiene un polígono cóncavo?

¿Quién tiene un trapecio isósceles?

¿Quién tiene el ángulo que forman las diagonales de un rombo?

¿Quién tiene el número de lados iguales en un triángulo equilátero?

¿Quién tiene un polígono de ocho lados?

¿Quién tiene los ángulos agudos de un triángulo rectángulo isósceles?

¿Quién tiene un triángulo escaleno no acutángulo?

¿Quién tiene un triángulo con dos lados iguales?

¿Quién tiene los ángulos de un triángulo equilátero?

¿Quién tiene un paralelogramo con todos sus lados iguales, pero que no es un cuadrado?

¿Quién tiene el número de diagonales de un pentágono?

¿Quién tiene un paralelogramo con un ángulo recto?

¿Quién tiene un cuadrilátero con sus lados paralelos 2 a 2?

¿Quién tiene un cuadrilátero con sólo dos lados paralelos?

¿Quién tiene un polígono estrellado?

¿Quién tiene un polígono de 5 lados?

¿Quién tiene un cuadrilátero con sus lados y ángulos iguales?

¿Quién tiene un triángulo con todos sus ángulos iguales?

¿Quién tiene el número de lados de un heptágono?

¿Quién tiene un triángulo acutángulo?

¿Quién tiene el lado mayor de un triángulo rectángulo?

¿Quién tiene un polígono con todos sus ángulos y lados iguales?

¿Quién tiene un triángulo obtusángulo isósceles?

¿Quién tiene los lados que forman el ángulo de 90° en un triángulo rectángulo?

¿Quién tiene la suma de los ángulos de un triángulo?

¿Quién tiene la suma de los ángulos de un cuadrilátero?

¿Quién tiene dos ángulos que suman 180° ?

¿Quién tiene 2 ángulos que suman 90° ?

Yo tengo
ÁNGULOS
SUPLEMENTARIOS

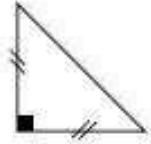
Yo tengo
ÁNGULOS
COMPLEMENTARIOS

Yo tengo
un HEXÁGONO

Yo tengo
 360°

Yo tengo
 180°

Yo tengo



Yo tengo
3

Yo tengo
un ÁNGULO de 90°

Yo tengo



Yo tengo



Yo tengo
un TRIÁNGULO
ISÓSCELES

Yo tengo



Yo tengo
 45°

Yo tengo
el OCTOGONO

Yo tengo
un RECTÁNGULO

Yo tengo
5

Yo tengo
un ROMBO

Yo tengo
ÁNGULOS de 60°

Yo tengo
un PENTÁGONO


Yo tengo



Yo tengo
un TRAPECIO

Yo tengo un
PARALELOGRAMO

Yo tengo



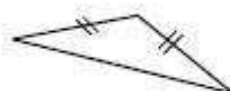
Yo tengo
7

Yo tengo
un TRIÁNGULO
EQUILATERO

Yo tengo
un CUADRADO

Yo tengo
CATETOS

Yo tengo



Yo tengo
un POLÍGONO
REGULAR

Yo tengo
la HIPOTENUSA