

LOS LABERINTOS DE HALLOWEEN: DECIMALES



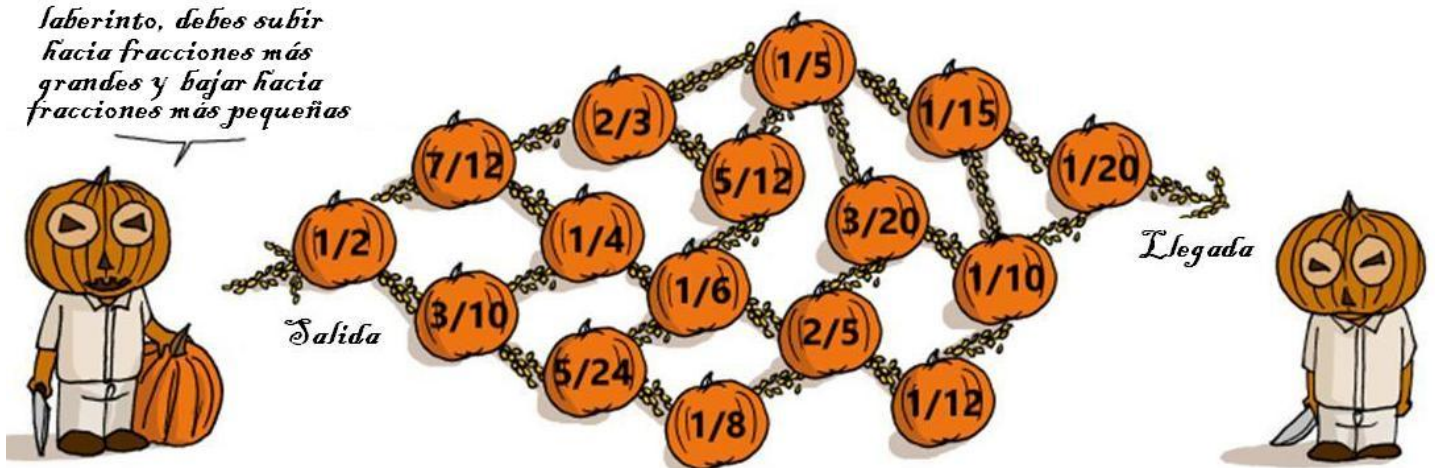
HALLOWEEN

Actividad:

Ejemplo 1

Halla el camino más corto en este curioso laberinto de Halloween:

Para avanzar en este laberinto, debes subir hacia fracciones más grandes y bajar hacia fracciones más pequeñas



Debes recorrer este laberinto desde la salida hasta la llegada


AYUDA:

Pasa las fracciones a su expresión decimal para ordenarlas de forma más fácil.

Ejemplo 2

Halla el camino más corto en este curioso laberinto de Halloween:

Para avanzar en este laberinto debes ir hacia un fantasma blanco si tiene un valor más pequeño y un fantasma gris, si el valor es más grande.

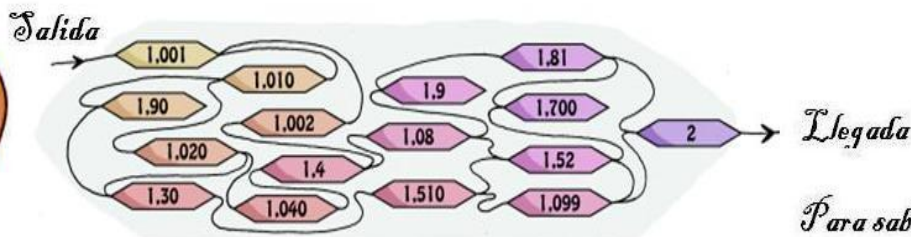


Recorre el laberinto desde la salida a la llegada

Ejemplo 3

Halla el camino más corto en este curioso laberinto de Halloween:

Para avanzar debes simplemente seguir siempre valores crecientes



Para saber si has recorrido el laberinto correctamente, comprueba que el total de los números que has encontrado es 12,871